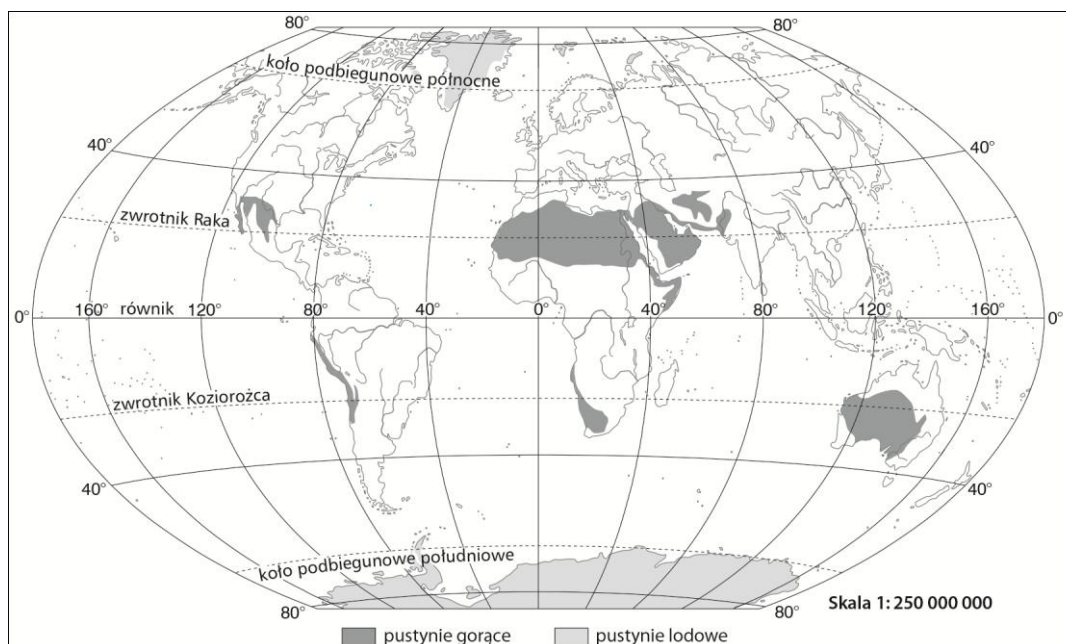


Krajobrazy pustyni gorącej i pustyni lodowej

imię i nazwisko	
klasa	data

1. Wpisz na mapie numery, którymi oznaczono wymienione poniżej pustynie gorące i pustynie lodowe. Wykorzystaj informacje z atlasu geograficznego podane na mapach hipsometrycznych i krajobrazowych świata oraz poszczególnych kontynentów.



Azja: 1. Gobi, 2. Takla Makan, 3. Kyzyl-kum, 4. Ar Rab-al-Chali, 5. Thar. **Afryka:** 6. Sahara, 7. Namib, 8. Kalahari. **Ameryka Południowa:** 9. Atakama. **Australia:** 10. Wielka Pustynia Piaszczysta, 11. Wielka Pustynia Wiktorii, 12. Pustynia Gibsona. 13. **Grenlandia.** 14. **Antarktyda.**

2. Rozpoznaj na podstawie opisów rodzaje pustyń gorących, a następnie zapisz ich nazwy.

Pustynia pokryta masami piasku w postaci wydmy:.....

Pustynia, na której możemy znaleźć grzyby skalne:.....

Pustynia pokryta niedużymi fragmentami skał i okruchami skalnymi:.....

3. Uzupełnij schemat na podstawie informacji z podręcznika. Uwzględnij na nim to, co jest potrzebne, by na pustyni powstał grzyb skalny.

	+		+		=
--	---	--	---	--	---



4. Beduini to ludność koczownicza zamieszkująca północną część Afryki oraz Półwysep Arabski w Azji. Napisz w kilku zdaniach, co sprawia, że ci ludzie stale przemieszczają się z miejsca na miejsce.

.....

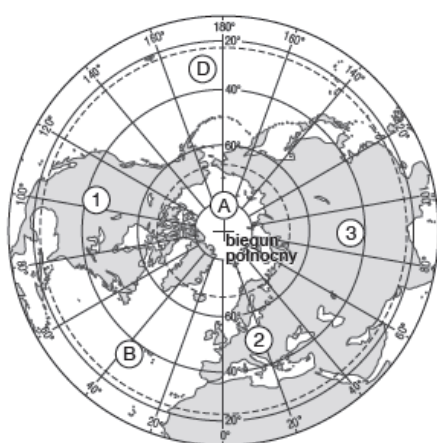
.....

.....

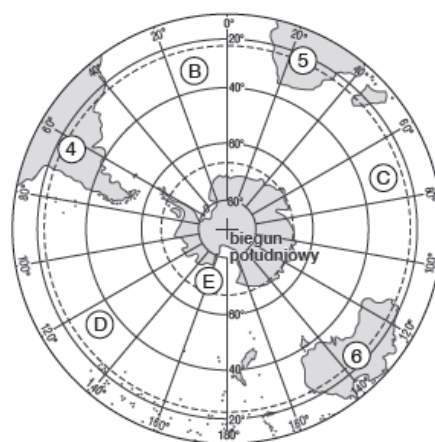
.....

5. Wykonaj zadania na podstawie map z atlasu geograficznego.

- Wybierz i zaznacz właściwe podpisy pod mapami.
- Rozpoznaj na mapach i wpisz w odpowiednich miejscach nazwy kontynentów oznaczonych cyframi od 1 do 6 oraz oceanów oznaczonych literami od A do E.
- Zakreskuj obszary występowania lądolodu.



Skala 1:250 000 000



Skala 1:250 000 000

☐ Arktyka

☐ Antarktyka

☐ Arktyka

☐ Antarktyka

Kontynenty:

- _____
- _____
- _____
- _____
- _____
- _____

Oceany:

- _____
- _____
- _____
- _____
- _____