













Trochę matematyki:

Name: \_\_\_\_\_ What's missing here?

 6 4 <input type="text"/>	 3 <input type="text"/> 2	 <input type="text"/> 2   6
 <input type="text"/> 5   2	 7 4 <input type="text"/>	 10 5 <input type="text"/>
 9 <input type="text"/> 6	 <input type="text"/> 2   7	 8 2 <input type="text"/>
 <input type="text"/> 5   5	 <input type="text"/> 1   5	 7 2 <input type="text"/>

<input type="text"/> <input type="text"/> 6 1 <input type="text"/> 4	<input type="text"/> 4 <input type="text"/> <input type="text"/> 1   5	<input type="text"/> <input type="text"/> 3 <input type="text"/> 2   3
<input type="text"/> 5 <input type="text"/> <input type="text"/> 2   0	<input type="text"/> 7 <input type="text"/> <input type="text"/> 0   2	<input type="text"/> <input type="text"/> 2 <input type="text"/> 2   1
<input type="text"/> 3 <input type="text"/> <input type="text"/> 2   4	<input type="text"/> 3 <input type="text"/> 1 <input type="text"/> 3	<input type="text"/> <input type="text"/> 3 <input type="text"/> 0   2
<input type="text"/> 2 <input type="text"/> <input type="text"/> 2   1	<input type="text"/> 3 <input type="text"/> <input type="text"/> 3   2	<input type="text"/> <input type="text"/> 4 2 <input type="text"/> 3
<input type="text"/> <input type="text"/> 6 1   3 <input type="text"/>	<input type="text"/> <input type="text"/> 4 0   2 <input type="text"/>	<input type="text"/> <input type="text"/> 3 3   2 <input type="text"/>
<input type="text"/> 3 <input type="text"/> <input type="text"/> 0   5	<input type="text"/> <input type="text"/> 1 4   0 <input type="text"/>	<input type="text"/> <input type="text"/> 5 3 <input type="text"/> 5

